

Optellen tot 100 zonder brug: TE + E / E + TE

Deze pagina is uitleg!

DOEL Ik kan optellen tot 100 zonder brug, van het type TE + E / E + TE.

$$\square\square\square + \square\square\square$$

$$3 + 4 = 7$$



$$\blacksquare\square\square + \square\square\square\square$$

$$13 + 4 = 17$$

$$4 + 13 = 17$$



- MAB-materiaal
- monster met lege grabbelzak (kopieerblad 4.4)

1 Doe!

Leg 7 staafjes en 2 blokjes in de grabbelzak.

Hoeveel heb je nu?

Leg er 2 blokjes bij.

Hoeveel heb je bijgelegd?

Hoeveel ligt er nu samen in de zak?

Dus: $72 + 2 = 74$

Leg 3 staafjes en 4 blokjes in de grabbelzak.

Hoeveel heb je nu?

Leg er 5 blokjes bij.

Hoeveel heb je bijgelegd?

Hoeveel ligt er nu samen in de zak?

Dus: $34 + 5 = 39$

Leg 1 staafje en 3 blokjes in de grabbelzak.

Hoeveel heb je nu?

Leg er 3 blokjes bij.

Hoeveel heb je bijgelegd?

Hoeveel ligt er nu samen in de zak?

Dus: $13 + 3 = 16$



moet je niet doen.

Alle oefeningen maken

X **5** Los op.

$16 + 2 = 18$

$6 + 71 = 77$

$3 + 45 = 48$

$12 + 5 = 17$

$8 + 10 = 18$

$6 + 91 = 97$

$22 + 6 = 28$

$47 + 2 = 49$

$35 + 4 = 39$

$\begin{array}{r} 5 \\ + 15 \\ \hline 20 \end{array}$

$4 + 44 = 48$

$62 + 4 = 66$

$91 + 3 = 94$

$3 + 33 = 36$

Bewerkingen



Hoe voelde je je tijdens de oefening?




Wat vond je van de oefening?




Deze pagina is uitleg!

DOEL Ik kan aftrekkingen tot 100 maken, zonder brug.



$$37 - 3 = 34$$



$$58 - 5 = 53$$




- 10 staafjes
- 10 blokjes
- monster met grabbelzak (kopieerblad 5.2)

1 Doe!

Leg 3 staafjes en 4 blokjes.
 Hoeveel heb je alles samen gelegd?
 Neem 3 blokjes weg.
 Hoeveel ligt er nog?
 Dus: $34 - 3 = ?$

Leg 7 staafjes en 7 blokjes.
 Hoeveel heb je alles samen gelegd?
 Neem 2 blokjes weg.
 Hoeveel ligt er nog?
 Dus: $77 - 2 = ?$

Leg 2 staafjes en 6 blokjes.
 Hoeveel heb je alles samen gelegd?
 Neem 3 blokjes weg.
 Hoeveel ligt er nog?
 Dus: $26 - 3 = ?$



moet niet

Alle oefeningen maken.

X

4 Los op.

$28 - 3 = 25$

$55 - 2 = 53$

$19 - 7 = 12$

$84 - 1 = 83$

$32 - 1 = 31$

$69 - 3 = 66$

$78 - 6 = 72$

$39 - 4 = 35$

$45 - 4 = 41$

$13 - 2 = 11$

Bewerkingen



Hoe voelde je je tijdens de oefening?



Wat vond je van de oefening?



... beetje moeilijker?

$17 - 3 = 14$	$88 - 7 = 81$
$43 - 2 = 41$	♥ $22 + 8 = 30$
$34 + 3 = 37$	$33 + 5 = 38$
$60 + 2 = 62$	$45 - 3 = 42$
$79 - 1 = 78$	$66 - 1 = 65$
$91 + 1 = 92$	$49 - 8 = 41$
$24 - 3 = 21$	$21 + 8 = 29$
♥ $88 + 2 = 90$	$74 + 5 = 79$
$67 + 2 = 69$	$27 - 6 = 21$
$14 - 3 = 11$	$75 - 4 = 71$

Extra. Kan jij deze breinbreker oplossen?

$$\begin{aligned} \text{☘} + \text{☘} + \text{☘} &= 15 \\ \text{☀} + \text{☘} &= 25 \\ \text{☀} + \text{🐞} &= 23 \\ \text{☀} + \text{☘} + \text{🐞} &= ? \end{aligned}$$

Je antwoord: 28

